

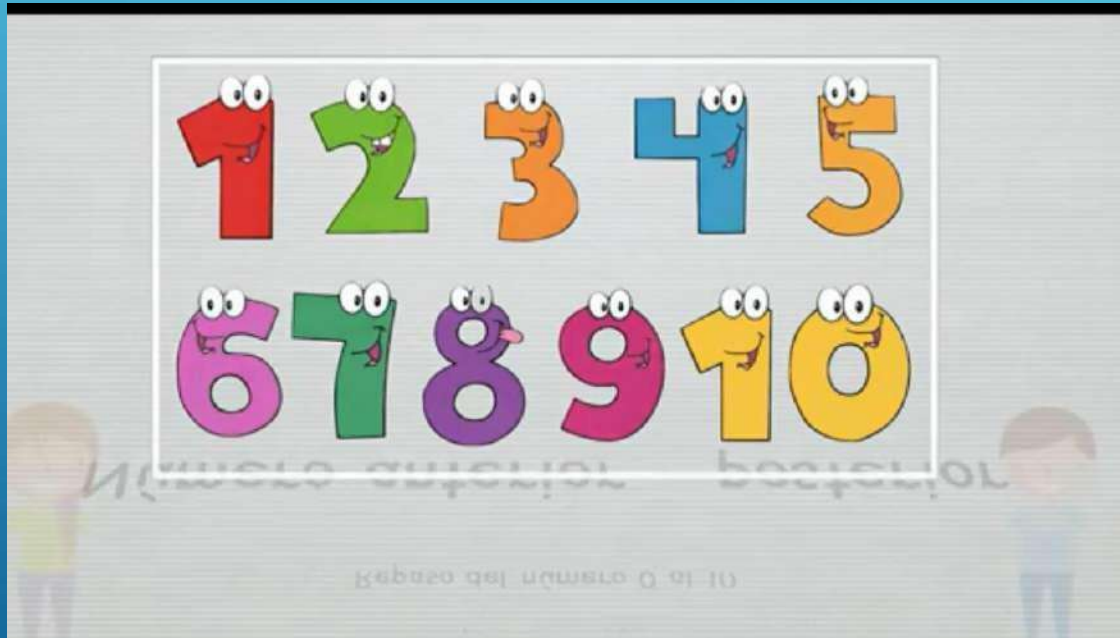
I- IDENTIFICACIÓN DE LA PRESENTACIÓN N° 021-022 /2022

| | |
|-------------------|----------------------|
| ASIGNATURA | MATEMÁTICAS |
| PROFESOR | HEYDY MORALES |
| CURSO | 1° BÁSICO |
| SEMESTRE | PRIMERO |

**II- GESTIÓN CURRICULAR**

| | | | |
|---------------------------|--|--------------|-------------------------------------|
| OBJETIVO | Contar números del 0 al 100 de 1 en 1, de 2 en 2, de 5 en 5 y de 10 en 10, hacia adelante y hacia atrás, empezando por cualquier número menor que 100. | | |
| CONTENIDO | NÚMEROS | | |
| NÚMERO DE CLASE | 021/022 - 2022 | FECHA | SEMANA DEL 25 AL 29 DE ABRIL |
| ACTIVIDAD PRÁCTICA | TOMO 1 ASTORECA MATEMÁTICA | | |
| MATERIAL | CUADERNO - LÁPIZ - COLORES - OBJETOS VARIOS | | |

LOS NÚMEROS: ANTERIOR Y POSTERIOR



<https://youtu.be/p39H3lmQrgU>

COMPLETAMOS LOS NÚMEROS: ANTERIOR Y POSTERIOR

$\square \leftarrow 2 \rightarrow \square$

$\square \leftarrow 7 \rightarrow \square$

$\square \leftarrow 3 \rightarrow \square$

$\square \leftarrow 8 \rightarrow \square$

$\square \leftarrow 4 \rightarrow \square$



















$\square \leftarrow 9 \rightarrow \square$

$\square \leftarrow 5 \rightarrow \square$

$\square \leftarrow 10 \rightarrow \square$

$\square \leftarrow 6 \rightarrow \square$

$\square \leftarrow 11 \rightarrow \square$

| | | | | | |
|--|--|--|--|--|--|
|  |  |  |  |  |  |
|  |  |  |  |  |  |
|  |  |  |  |  |  |

1) Completar cuadro

| anterior | posterior |
|----------|-----------|
| | 11 |
| | 17 |
| | 15 |
| | 13 |
| | 8 |
| | 9 |
| | 23 |
| | 34 |

2) Números de 3 en 3, iniciamos en **5** y terminamos en **50**

5 - 8 - 11 - 14 - - - - - 32 -
35 - - - - - 47 -

**REALIZAMOS EN
CUADERNO
DE MATEMÁTICAS**



COMPLETAMOS LOS NÚMEROS: ANTERIOR Y POSTERIOR

1. Escribe el número anterior y posterior de cada número.

| | | | | | | | | | | | |
|--|---|--|--|---|--|--|---|--|--|---|--|
| | 7 | | | 3 | | | 8 | | | 5 | |
|--|---|--|--|---|--|--|---|--|--|---|--|

| | | | | | | | | | | | |
|--|-----------|--|--|---|--|--|---|--|--|---|--|
| | <u>11</u> | | | 2 | | | 6 | | | 4 | |
|--|-----------|--|--|---|--|--|---|--|--|---|--|

| | | | | | | | | | | | |
|--|---|--|--|----|--|--|----|--|--|-----------|--|
| | 9 | | | 14 | | | 10 | | | <u>16</u> | |
|--|---|--|--|----|--|--|----|--|--|-----------|--|

COMPLETAMOS LOS NÚMEROS: ANTERIOR Y POSTERIOR

| | |
|----|--|
| 10 | |
| 19 | |
| 15 | |
| 17 | |
| 16 | |
| 9 | |
| 18 | |
| 13 | |
| 11 | |
| 12 | |
| 14 | |
| 20 | |

| | | | | | | | | | | |
|----|--|----|--|----|--|----|--|----|--|----|
| 17 | | 14 | | 16 | | 10 | | | | |
| 9 | | 11 | | 18 | | 20 | | 13 | | |
| 19 | | | | 5 | | | | 18 | | |
| 8 | | 10 | | | | 15 | | 10 | | 12 |

1) Completar cuadro

| anterior | posterior |
|----------|-----------|
| 5 | |
| 2 | |
| 7 | |
| 10 | |
| 12 | |
| 16 | |
| 20 | |

2) números de 2 en 2, iniciamos en 10 y terminamos en 40

10 - 12 - 14 - - - - - 26 - 28
30 - - - - - 38 -

REALIZAMOS EN CUADERNO DE MATEMÁTICAS



CONTAR DE 3 EN 3

Contar de 3 en 3 hasta el 30

3 - 6 - 9 - 12 - 15 - 18

21 - 24 - 27 - 30

CONTAMOS DE 3 EN 3 Y TACHAMOS /

INICIAMOS EN 3

| | | | | | | | | | |
|----|----|--------------|----|----|----|----|----|----|----|
| 1 | 2 | 3 | 4 | 5 | 6 | 7 | 8 | 9 | 10 |
| 11 | 12 | 13 | 14 | 15 | 16 | 17 | 18 | 19 | 20 |
| 21 | 22 | 23 | 24 | 25 | 26 | 27 | 28 | 29 | 30 |



CONTAMOS DE 3 EN 3 Y TACHAMOS /

INICIAMOS EN 2

| | | | | | | | | | |
|----|--------------|----|----|--------------|----|----|----|----|----|
| 1 | 2 | 3 | 4 | 5 | 6 | 7 | 8 | 9 | 10 |
| 11 | 12 | 13 | 14 | 15 | 16 | 17 | 18 | 19 | 20 |
| 21 | 22 | 23 | 24 | 25 | 26 | 27 | 28 | 29 | 30 |




CONTAMOS DE 3 EN 3 Y TACHAMOS /

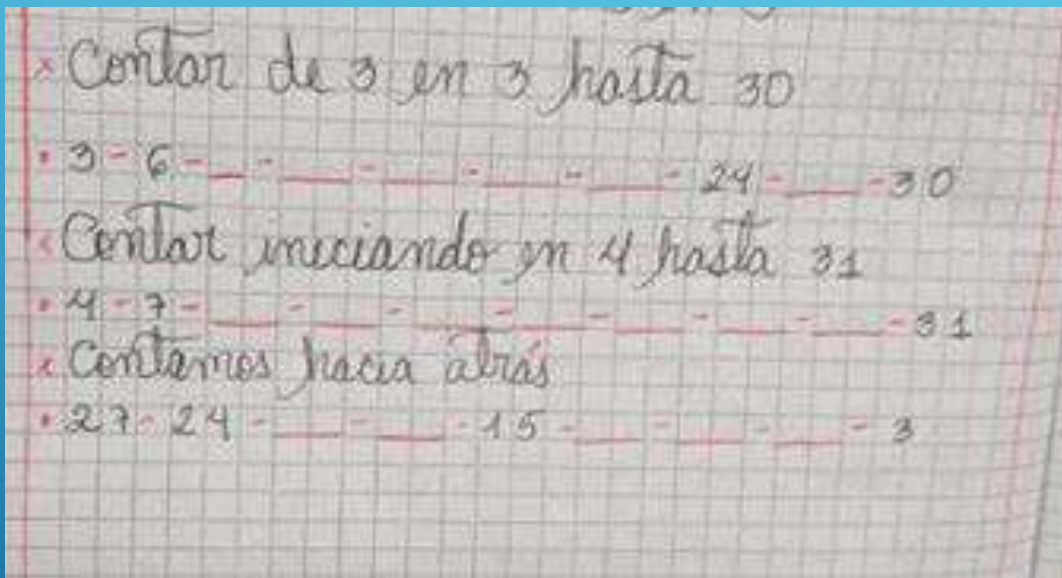
**INICIAMOS EN 28 Y
CONTAMOS HACIA ATRÁS**

| | | | | | | | | | |
|----|----|----|----|---------------|----|----|---------------|----|----|
| 1 | 2 | 3 | 4 | 5 | 6 | 7 | 8 | 9 | 10 |
| 11 | 12 | 13 | 14 | 15 | 16 | 17 | 18 | 19 | 20 |
| 21 | 22 | 23 | 24 | 25 | 26 | 27 | 28 | 29 | 30 |



**PRACTICAMOS
HACIENDO USO DE
NUESTROS DEDOS**





**REALIZAMOS EN
CUADERNO
DE MATEMÁTICAS**



DIBUJAMOS EN CUADERNO
DE MATEMÁTICAS

